

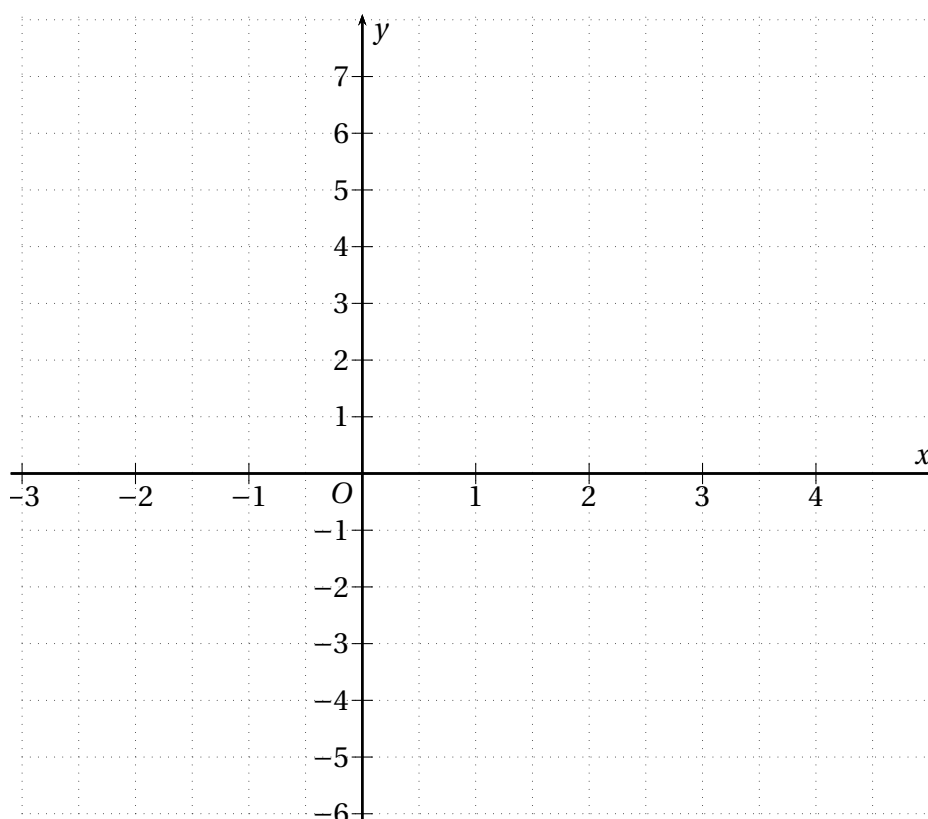
Devoir surveillé n° 1

Continuité – Dérivation

EXERCICE 1.1 (4 points).

f est la fonction définie sur $[-2; 4]$ par : $f(x) = \begin{cases} x^2 - x + 1 & \text{si } x \in [-2; 2[\\ mx + 5 & \text{si } x \in [2; 4] \end{cases}$

- Tracer la représentation graphique de f dans le repère ci-dessous :
 - en vert pour $m = \frac{1}{2}$
 - en bleu pour $m = -2$
- Comment choisir m pour que f soit continue sur $[-2; 5]$? *Une justification est attendue.*
Tracer alors la courbe représentative de f en rouge.



EXERCICE 1.2 (6 points).

Soit f la fonction définie sur \mathbb{R} par

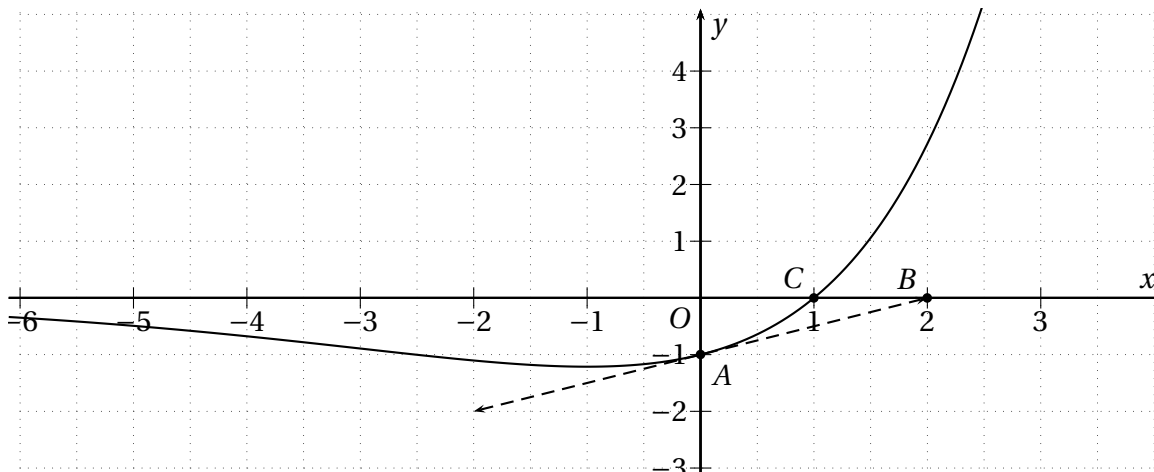
$$f(x) = -\frac{1}{3}x^3 - \frac{1}{2}x^2 + 2x + 4$$

- Étudier les variations de f et dresser son tableau de variation.
On indiquera les valeurs approchées au dixième des extremums locaux.
- Justifier que l'équation $f(x) = 0$ n'a aucune solution sur $] -\infty; 1]$.
 - Montrer que l'équation $f(x) = 0$ admet une unique solution α sur $[1; +\infty[$.
 - Déterminer un encadrement de α d'amplitude 10^{-2} .
 - Déterminer le signe de $f(x)$ selon les valeurs de x .

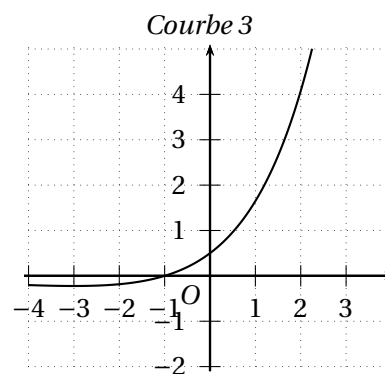
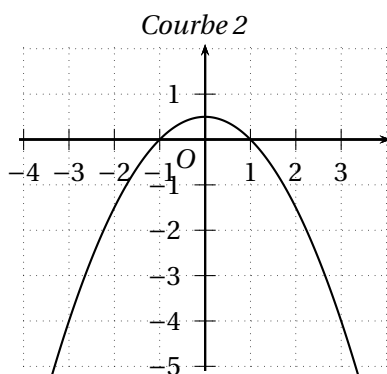
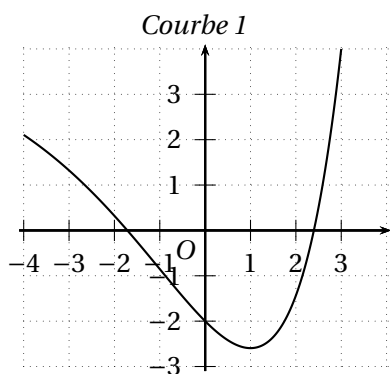
EXERCICE 1.3 (4 points).

Dans le repère ci-dessous, on donne la courbe représentative d'une fonction f définie sur \mathbb{R} . La courbe passe par les points $A(0; -1)$ et $C(1; 0)$.

La tangente à la courbe au point d'abscisse -1 est parallèle à l'axe des abscisses et la tangente à la courbe en A passe par le point $B(2; 0)$.



1. Sans justifier déterminer $f(0)$ et $f(1)$.
2. En justifiant déterminer $f'(-1)$ et $f'(0)$.
3. Une des courbes ci-dessous représente la fonction dérivée f' de f . Déterminer laquelle en justifiant votre choix à l'aide d'arguments graphiques.
4. Une des courbes ci-dessous représente une fonction g telle que $g' = f$. Déterminer laquelle en justifiant votre choix à l'aide d'arguments graphiques.

**EXERCICE 1.4** (6 points).

f est la fonction définie sur $\mathbb{R} \setminus \{1\}$ par

$$f(x) = \frac{x^2 - x + 1}{x - 1}$$

1. Soit f' la fonction dérivée de f . Montrer que $f'(x) = \frac{x^2 - 2x}{(x-1)^2}$ sur $\mathbb{R} \setminus \{1\}$.
2. Étudier les variations de f et dresser le tableau des variations de f en y indiquant les valeurs exactes des extremums locaux.
3. Déterminer les abscisses des points de la courbe de f où la tangente est parallèle à l'axe des abscisses.
4. Déterminer l'équation réduite de la tangente à la courbe au point d'abscisse 3.